

• REALIZAR EL CUADRO DE LAS TABLAS DEL 1 AL 10

x	1	2	3	4	5	6	7	8	9	10
1	1	2	3	4	5	6	7	8	9	10
2	2	4	6	8	10	12	14	16	18	20
3	3	6	9	12	15	18	21	24	27	30
4	4	8	12	16	20	24	28	32	36	40
5	5	10	15	20	25	30	35	40	45	50
6	6	12	18	24	30	36	42	48	54	60
7	7	14	21	28	35	42	49	46	63	70
8	8	16	24	32	40	48	56	64	72	80
9	9	18	27	36	45	54	63	72	81	90
10	10	20	30	40	50	60	70	80	90	100

• Realizarestasoperaciones:

$$3 \times 2 = 6$$

$$8 \times 2 = 16$$

$$1 \times 2 = 2$$

$$7 \times 2 = 14$$

$$5 \times 2 = 10$$

$$4 \times 2 = 8$$

$$6 \times 2 = 12$$

$$10 \times 2 = 20$$

$$9 \times 2 = 18$$

$$0 \times 2 = 0$$

$$2 \times 2 = 4$$

$$3 \times 3 = 9$$

$$8 \times 3 = 24$$

$$1 \times 3 = 3$$

$$7 \times 3 = 21$$

$5 \times 3 = 15$

$4 \times 3 = 12$

$6 \times 3 = 18$

$10 \times 3 = 30$

$9 \times 3 = 27$

$0 \times 3 = 0$

$2 \times 3 = 6$

• ESCRIBO CON NÚMEROS LAS TABLAS DEL 1, DEL 2 Y DEL 3

Tabla del 1	Tabla del 2	Tabla del 3
$1 \times 1 = 1$	$2 \times 1 = 2$	$3 \times 1 = 3$
$1 \times 2 = 2$	$2 \times 2 = 4$	$3 \times 2 = 6$
$1 \times 3 = 3$	$2 \times 3 = 6$	$3 \times 3 = 9$
$1 \times 4 = 4$	$2 \times 4 = 8$	$3 \times 4 = 12$
$1 \times 5 = 5$	$2 \times 5 = 10$	$3 \times 5 = 15$
$1 \times 6 = 6$	$2 \times 6 = 12$	$3 \times 6 = 18$
$1 \times 7 = 7$	$2 \times 7 = 14$	$3 \times 7 = 21$
$1 \times 8 = 8$	$2 \times 8 = 16$	$3 \times 8 = 24$
$1 \times 9 = 9$	$2 \times 9 = 18$	$3 \times 9 = 27$
$1 \times 10 = 10$	$2 \times 10 = 20$	$3 \times 10 = 30$

• **ESCRIBO CON NÚMEROS LAS TABLAS DEL 4, DEL 5 Y DEL 6**

Tabla del 4	Tabla del 5	Tabla del 6
$4 \times 1 = 4$	$5 \times 1 = 5$	$6 \times 1 = 6$
$4 \times 2 = 8$	$5 \times 2 = 10$	$6 \times 2 = 12$
$4 \times 3 = 12$	$5 \times 3 = 15$	$6 \times 3 = 18$
$4 \times 4 = 16$	$5 \times 4 = 20$	$6 \times 4 = 24$
$4 \times 5 = 20$	$5 \times 5 = 25$	$6 \times 5 = 30$
$4 \times 6 = 24$	$5 \times 6 = 30$	$6 \times 6 = 36$
$4 \times 7 = 28$	$5 \times 7 = 35$	$6 \times 7 = 42$
$4 \times 8 = 32$	$5 \times 8 = 40$	$6 \times 8 = 48$
$4 \times 9 = 36$	$5 \times 9 = 45$	$6 \times 9 = 54$
$4 \times 10 = 40$	$5 \times 10 = 50$	$6 \times 10 = 60$

• **ESCRIBO CON NÚMEROS LAS TABLAS DEL 7, DEL 8 Y DEL 9**

Tabla del 7	Tabla del 8	Tabla del 9
$7 \times 1 = 7$	$8 \times 1 = 8$	$9 \times 1 = 9$
$7 \times 2 = 14$	$8 \times 2 = 16$	$9 \times 2 = 18$
$7 \times 3 = 21$	$8 \times 3 = 24$	$9 \times 3 = 27$
$7 \times 4 = 28$	$8 \times 4 = 32$	$9 \times 4 = 36$
$7 \times 5 = 35$	$8 \times 5 = 40$	$9 \times 5 = 45$
$7 \times 6 = 42$	$8 \times 6 = 48$	$9 \times 6 = 54$
$7 \times 7 = 49$	$8 \times 7 = 56$	$9 \times 7 = 63$
$7 \times 8 = 56$	$8 \times 8 = 64$	$9 \times 8 = 72$
$7 \times 9 = 63$	$8 \times 9 = 72$	$9 \times 9 = 81$
$7 \times 10 = 70$	$8 \times 10 = 80$	$9 \times 10 = 90$

ESCRIBE EN FORMA DE SUMA LAS SIGUIENTES MULTIPLICACIONES:

$$2 \times 3 = 3 + \underline{3} = \underline{6}$$

$$4 \times 3 = 3 + \underline{3} + \underline{3} + \underline{3} = \underline{12}$$

$$2 \times 5 = 5 + \underline{5} = \underline{10}$$

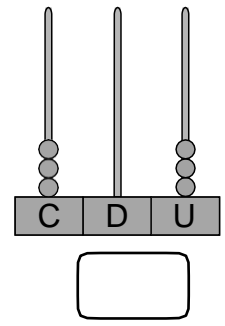
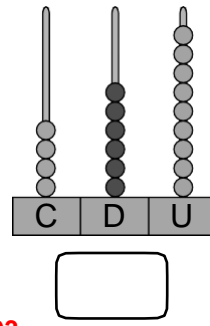
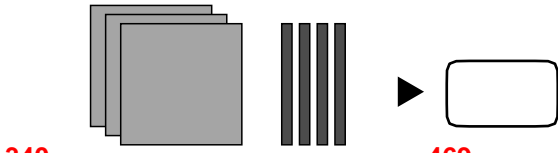
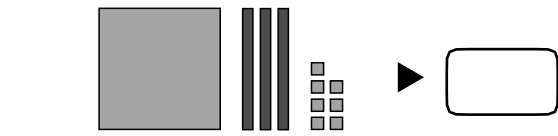
$$4 \times 5 = 5 + \underline{5} + \underline{5} + \underline{5} = \underline{20}$$

Escribe en forma de multiplicación las siguientes sumas:

$$10 + 10 + 10 = 3 \times \underline{10} = \underline{30}$$

$$5 + 5 + 5 + 5 + 5 = \underline{5} \times \underline{5} = \underline{25}$$

● Cuenta y escribe el número.



469

303

● Completa y escribe cómo se lee cada número.

• $94 = \square + \square$ ▶

90 4 **Noventa y cuatro.**

• $73 = \square + \square$ ▶

70 3 **Setenta y tres.**

• $362 = \square + \square + \square$ ▶

300 60 2 **Treccientos sesenta y dos.**

• $280 = \square + \square$ ▶

200 80 **Doscientos ochenta.**

● Compara los números y escribe el signo > o <.

$27 \bigcirc < 39$

$72 \bigcirc > 37$

$80 \bigcirc > 37$

$54 \bigcirc > 32$

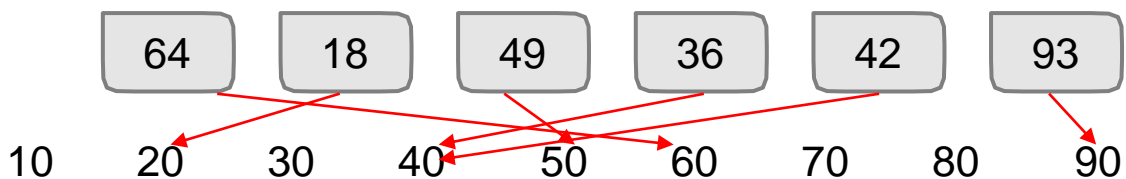
$34 \bigcirc > 31$

$61 \bigcirc > 31$

$29 \bigcirc < 34$

$68 \bigcirc > 61$

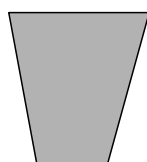
● Relaciona cada número con su decena más cercana.



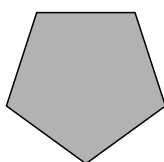
● **Escribe cómo se lee cada número.**

- 324 ►
- 209 ►
- 370 ►

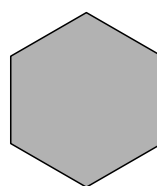
● **Cuenta y completa.**



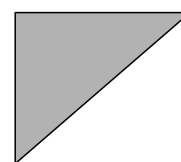
4
 Vértices
 4 Lados



5
 Vértices
 5 Lados



6
 Vértices
 6 Lados



3
 Vértices
 3 Lados

● **Escribe dos objetos que asocies con circunferencias y dos con círculos.** **Respuesta libre.**

● **Luis ha recogido del bosque 92 castañas, y Lucía, 27. ¿Cuántas castañas ha recogido Luis más que Lucía?**

Datos ► y

Operación ►

						92	
						- 27	
						65	

Solución ►

● Calcula.

$$\begin{array}{r} 462 \\ +527 \\ \hline 989 \end{array}$$

$$\begin{array}{r} 689 \\ +95 \\ \hline 784 \end{array}$$

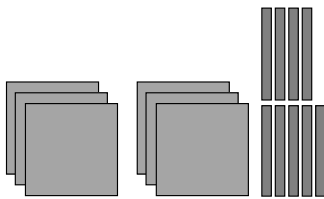
$$\begin{array}{r} 897 \\ -325 \\ \hline 572 \end{array}$$

$$\begin{array}{r} 481 \\ -396 \\ \hline 085 \end{array}$$

● Completa.

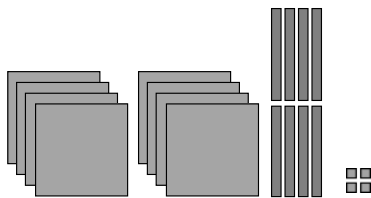
- 1 m y 20 cm = cm + cm = cm
- 2 m y 38 cm = cm + cm = cm

● Completa y escribe el número correspondiente.



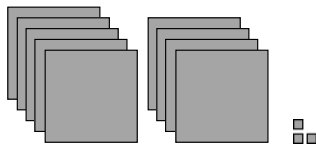
$$690 = \text{600} + \text{90}$$

Seiscientos noventa



$$884 = \text{800} + \text{80} + \text{4}$$

Ochocientos ochenta y cuatro



$$903 = \text{900} + \text{3}$$

Novecientos tres

● Calcula.

$$5 \times 0 = \text{0} \quad 2 \times 8 = \text{16} \quad 3 \times 6 = \text{18} \quad 4 \times 4 = \text{16}$$

$$5 \times 3 = \text{15} \quad 2 \times 9 = \text{18} \quad 3 \times 8 = \text{24} \quad 4 \times 5 = \text{20}$$

$$5 \times 6 = \text{30} \quad 2 \times 5 = \text{10} \quad 3 \times 9 = \text{27} \quad 4 \times 6 = \text{24}$$

$$5 \times 9 = \text{45} \quad 2 \times 6 = \text{12} \quad 3 \times 7 = \text{21} \quad 4 \times 9 = \text{36}$$

● **Multiplica.**

$$\begin{array}{r} 82 \\ \times 4 \\ \hline \end{array}$$


$$\begin{array}{r} 91 \\ \times 5 \\ \hline \end{array}$$

$$\begin{array}{r} 133 \\ \times 3 \\ \hline \end{array}$$

$$\begin{array}{r} 403 \\ \times 2 \\ \hline \end{array}$$

● **Para regar sus macetas, Clara gasta 210 litros de agua al día.
¿Cuántos litros gasta en 4 días?**

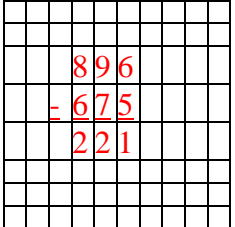
Datos ► y

Operación ► 

Solución ►

● **Miguel tiene 675 cromos de animales y Laura tiene 896 cromos.
¿Cuántos cromos tiene Miguel menos que Laura?**

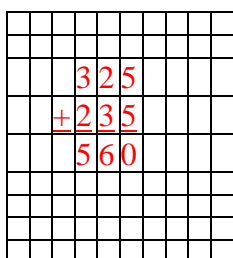
Datos ► y

Operación ► 

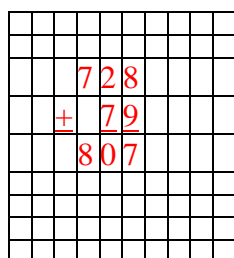
Solución ►

● **Calcula.**

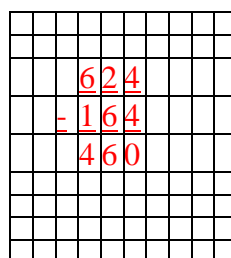
$325 + 235$



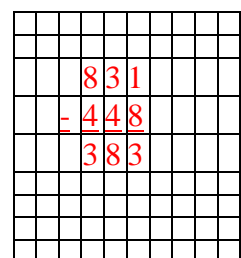
$728 + 79$



$624 - 164$



$831 - 448$



Datos ► **456** y **399**

Operación ►

Solución ► Hay 57 pasteles más que sándwiches.

● Coloca y calcula.

$$367 + 296 + 87$$

$$\begin{array}{r} 367 \\ + 296 \\ \hline 87 \\ \hline 750 \end{array}$$

$$756 + 179$$

$$\begin{array}{r} 759 \\ + 179 \\ \hline 938 \end{array}$$

$$600 - 598$$

$$\begin{array}{r} 600 \\ - 598 \\ \hline 002 \end{array}$$

$$831 - 409$$

$$\begin{array}{r} 831 \\ - 409 \\ \hline 422 \end{array}$$

● Ordena de menor a mayor estas alturas.

2 m y 89 cm

275 cm

3 m y 2 cm

290 cm

$$275 \text{ cm} < 2 \text{ m y } 89 \text{ cm} < 290 \text{ cm} < 3 \text{ m y } 2 \text{ cm}$$

● Completa.

$$2 \times \boxed{6} = 12$$

$$\boxed{4} \times 3 = 12$$

$$3 \times \boxed{7} = 21$$

$$4 \times \boxed{5} = 20$$

$$\boxed{3} \times 5 = 15$$

$$\boxed{}2 \times 7 = 14$$

● Coloca y multiplica.

$$\begin{array}{r} 201 \\ \times 4 \\ \hline 804 \end{array}$$

$$\begin{array}{r} 432 \\ \times 2 \\ \hline 864 \end{array}$$

$$\begin{array}{r} 231 \\ \times 3 \\ \hline 693 \end{array}$$

$$\begin{array}{r} 101 \\ \times 5 \\ \hline 505 \end{array}$$

● Ana reparte pan 4 días. Cada día reparte 210 barras. Luis reparte 3 días. Cada día reparte 301 barras. ¿Quién reparte más barras?

el tercer domingo de julio.

Se va de campamento el día

4 de julio.

Termina el campamento el día

17 de julio.

Ha estado de campamento **14** días.

Su madre fue a verle el segundo jueves del mes.

¿Qué día fue?

14 de julio.

JULIO						
L	M	X	J	V	S	D
				1	2	3
4	5	6	7	8	9	10
11	12	13	14	15	16	17
18	19	20	21	22	23	24
25	26	27	28	29	30	31

● Calcula.

$8 \times 4 = 32$

$8 \times 9 = 72$

$8 \times 8 = 64$

$8 \times 3 = 24$

$8 \times 5 = 40$

$8 \times 6 = 48$

$8 \times 7 = 56$

$8 \times 0 = 0$

● Teresa ha comprado 7 paquetes de bizcochos. Cada paquete contiene 8 bizcochos. ¿Cuántos bizcochos ha comprado Teresa?

Datos

▶ 7 y 8

Operación

▶ $7 \times 8 = 56$

Solución

▶ Teresa ha comprado 56 bizcochos.

● ¿Cuántos días son 4 semanas y 10 días?

Datos

▶ 4 semanas y 10 días

Operaciones

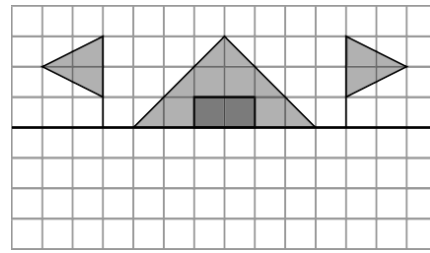
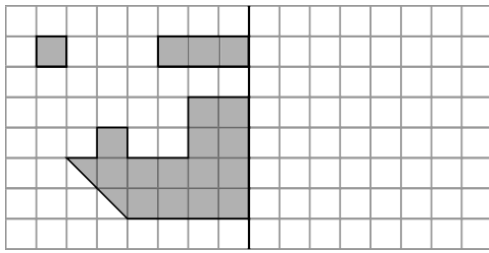
▶ 1.º $4 \times 7 = 28$

▶ 2.º $28 + 10 = 38$

Solución

▶ Son 38 días.

● **Completa las figuras para que sean simétricas.**



● **Realiza las siguientes multiplicaciones.**

$$\begin{array}{r} 51 \\ \times 7 \\ \hline 357 \end{array}$$

$$\begin{array}{r} 60 \\ \times 8 \\ \hline 480 \end{array}$$


$$\begin{array}{r} 90 \\ \times 9 \\ \hline 810 \end{array}$$

$$\begin{array}{r} 71 \\ \times 6 \\ \hline 636 \end{array}$$

● **Calcula el dinero que hay en cada caso.**



Hay **33** euros y **78** céntimos.



Hay **57** euros y **11** céntimos.

● **Rubén viaja a Valencia el quinto viernes de julio y regresa el día 15 de agosto.**

- ¿Qué día viaja a Valencia?
El 29 de julio
- ¿Cuántos días ha estado de viaje?
17 días.

JULIO						
L	M	X	J	V	S	D
				1	2	3
4	5	6	7	8	9	10
11	12	13	14	15	16	17
18	19	20	21	22	23	24
25	26	27	28	29	30	31

AGOSTO						
L	M	X	J	V	S	D
1	2	3	4	5	6	7
8	9	10	11	12	13	14
15	16	17	18	19	20	21
22	23	24	25	26	27	28
29	30	31				

● **Carmen ha comprado una botella de leche a 1,87 € y una caja de cereales a 2,23 €. ¿Cuánto cuestan los cereales más**

Operación

