

- REALIZAR EL CUADRO DE LAS TABLAS DEL 1 AL 10

x	1	2	3	4	5	6	7	8	9	10
1										
2										
3										
4										
5										
6										
7										
8										
9										
10										

- Realizar estas operaciones:

$3 \times 2 =$        $8 \times 2 =$        $1 \times 2 =$        $7 \times 2 =$

$5 \times 2 =$        $4 \times 2 =$        $6 \times 2 =$        $10 \times 2 =$

$9 \times 2 =$        $0 \times 2 =$        $2 \times 2 =$

$3 \times 3 =$        $8 \times 3 =$        $1 \times 3 =$        $7 \times 3 =$

$5 \times 3 =$        $4 \times 3 =$        $6 \times 3 =$        $10 \times 3 =$




• **ESCRIBO CON NÚMEROS LAS TABLAS DEL 7, DEL 8 Y DEL 9**

Tabla del 7	Tabla del 8	Tabla del 9

**ESCRIBE EN FORMA DE SUMA LAS SIGUIENTES MULTIPLICACIONES:**

$$2 \times 3 = 3 + \underline{\quad} = \underline{\quad}$$

$$4 \times 3 = 3 + \underline{\quad} + \underline{\quad} + \underline{\quad} = \underline{\quad}$$

$$2 \times 5 = 5 + \underline{\quad} = \underline{\quad}$$

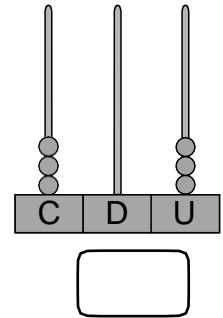
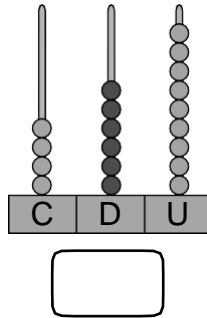
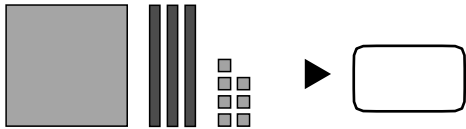
$$4 \times 5 = 5 + \underline{\quad} + \underline{\quad} + \underline{\quad} = \underline{\quad}$$

Escribe en forma de multiplicación las siguientes sumas:

$$10 + 10 + 10 = 3 \times \underline{\quad} = \underline{\quad}$$

$$5 + 5 + 5 + 5 + 5 = \underline{\quad} \times \underline{\quad} = \underline{\quad}$$

● Cuenta y escribe el número.



● Completa y escribe cómo se lee cada número.

•  $94 = \square + \square$  ►

•  $73 = \square + \square$  ►

•  $362 = \square + \square + \square$  ►

•  $280 = \square + \square$  ►

● Compara los números y escribe el signo > o <.

$27 \bigcirc 39$

$72 \bigcirc 37$

$80 \bigcirc 37$

$54 \bigcirc 32$

$34 \bigcirc 31$

$61 \bigcirc 31$

$29 \bigcirc 34$

$68 \bigcirc 61$

● Relaciona cada número con su decena más cercana.

64

18

49

36

42

93

10

20

30

40

50

60

70

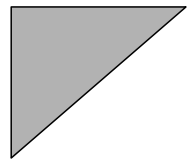
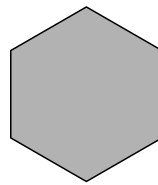
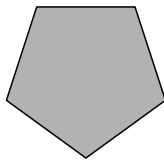
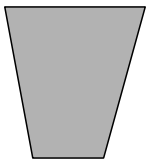
80

90

● Escribe cómo se lee cada número.

- 324 ►
- 209 ►
- 370 ►

● Cuenta y completa.



Vértices

Vértices

Vértices

Vértices

Lados

Lados

Lados


Lados

● Escribe dos objetos que asocies con circunferencias y dos con círculos.

● Luis ha recogido del bosque 92 castañas, y Lucía, 27.  
¿Cuántas castañas ha recogido Luis más que Lucía?

Datos ►  y

Operación ►



Solución ►

● **Escribe con cifras o con letras estos ordinales.**

Séptimo ►  8.º ►

Decimoquinto ►  19.º ►

● **Calcula.**

$$\begin{array}{r} 34 \\ +61 \\ \hline \end{array}$$

$$\begin{array}{r} 27 \\ +46 \\ \hline \end{array}$$

$$\begin{array}{r} 98 \\ -24 \\ \hline \end{array}$$


$$\begin{array}{r} 71 \\ -36 \\ \hline \end{array}$$

$$\begin{array}{r} 80 \\ -46 \\ \hline \end{array}$$

● **Piensa y resuelve.**

- Luis tiene 12 cuentos; Marcos, 16, y Teo, 41.  
¿Cuántos cuentos tienen en total?


Datos ► ,  y

Operación ► 

Solución ►

- En el tren había 82 viajeros. Se han bajado 37.  
¿Cuántos viajeros quedan?

Datos ►  y

Operación ► 

Solución ►

● **Calcula.**

$$\begin{array}{r} 462 \\ +527 \\ \hline \square \end{array}$$

$$\begin{array}{r} 689 \\ +95 \\ \hline \square \end{array}$$

$$\begin{array}{r} 897 \\ -325 \\ \hline \square \end{array}$$

$$\begin{array}{r} 481 \\ -396 \\ \hline \square \end{array}$$

● **Escribe cuántos centímetros mide de largo cada barra.**

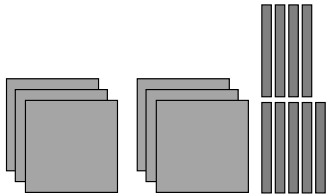


● **Completa.**

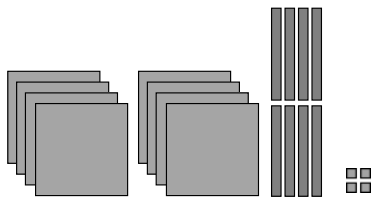
• 1 m y 20 cm =  cm +  cm =  cm

• 2 m y 38 cm =  cm +  cm =  cm

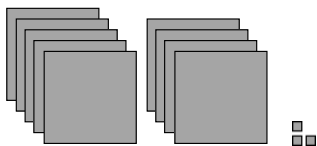
● **Completa y escribe el número correspondiente.**



$$\square = \square + \square$$



$$\square = \square + \square + \square$$



$$\square = \square + \square$$

● **Calcula.**

$5 \times 0 = \square$

$2 \times 8 = \square$

$3 \times 6 = \square$

$4 \times 4 = \square$

$5 \times 3 = \square$

$2 \times 9 = \square$

$3 \times 8 = \square$

$4 \times 5 = \square$

$5 \times 6 = \square$      $2 \times 5 = \square$      $3 \times 9 = \square$      $4 \times 6 = \square$

$5 \times 9 = \square$      $2 \times 6 = \square$      $3 \times 7 = \square$      $4 \times 9 = \square$

● **Multiplica.**

$$\begin{array}{r} 82 \\ \times 4 \\ \hline \square \end{array}$$


$$\begin{array}{r} 91 \\ \times 5 \\ \hline \square \end{array}$$

$$\begin{array}{r} 133 \\ \times 3 \\ \hline \square \end{array}$$

$$\begin{array}{r} 403 \\ \times 2 \\ \hline \square \end{array}$$

● **Para regar sus macetas, Clara gasta 210 litros de agua al día.  
¿Cuántos litros gasta en 4 días?**


Datos ►  $\square$  y  $\square$

Operación ► 

Solución ►

● **Miguel tiene 675 cromos de animales y Laura tiene 896 cromos.  
¿Cuántos cromos tiene Miguel menos que Laura?**


Datos ►  $\square$  y  $\square$

Operación ► 


Solución ►

● **Calcula.**


$325 + 235$




$728 + 79$



$624 - 164$



$831 - 448$





● **Completa.**

• 9 m y 56 cm =  cm +  cm =  cm

• 8 m y 7 cm =  cm +  cm =  cm

● **Piensa y completa.**

•  =  C + 6 D +  U = 900 +  + 4

---

• 980 =  C +  D +  U =  +

---


•  = 6 C +  D + 7 U =  + 40 +

---

● Teo conduce su camión 5 días a la semana. Cada día gasta 101 litros de gasoil. ¿Cuántos litros gasta cada semana?

**Datos** ►  y

**Operación** ►




**Solución** ►

● En la tienda hay 456 pasteles y 399 sándwiches.

¿Cuántos pasteles más que sándwiches hay?

**Datos** ►  y

**Operación** ►



**Solución** ►

● Coloca y calcula.

$367 + 296 + 87$

$756 + 179$

$600 - 598$

$831 - 409$

● Ordena de menor a mayor estas alturas.

2 m y 89 cm

275 cm

3 m y 2 cm

290 cm

● Completa.

$2 \times \square = 12$

$\square \times 3 = 12$

$3 \times \square = 21$

$4 \times \square = 20$

$\square \times 5 = 15$

$\square \times 7 = 14$

● Coloca y multiplica.

$$\begin{array}{r} 201 \\ \times 4 \\ \hline \square \end{array}$$

$$\begin{array}{r} 432 \\ \times 2 \\ \hline \square \end{array}$$

$$\begin{array}{r} 231 \\ \times 3 \\ \hline \square \end{array}$$


$$\begin{array}{r} 101 \\ \times 5 \\ \hline \square \end{array}$$

● Ana reparte pan 4 días. Cada día reparte 210 barras. Luis reparte 3 días. Cada día reparte 301 barras. ¿Quién reparte más barras?

Datos

►  $\square$  y  $\square$   
 $\square$  y  $\square$

Operaciones



Solución

►

● Realiza las siguientes multiplicaciones.

$$\begin{array}{r} 91 \\ \times 5 \\ \hline \square \end{array}$$

$$\begin{array}{r} 80 \\ \times 3 \\ \hline \square \end{array}$$

$$\begin{array}{r} 71 \\ \times 2 \\ \hline \square \end{array}$$

$$\begin{array}{r} 40 \\ \times 4 \\ \hline \square \end{array}$$

$$\begin{array}{r} 40 \\ \times 6 \\ \hline \square \end{array}$$

● Calcula.

$7 \times 8 = \square \quad 7 \times 3 = \square \quad 7 \times 0 = \square \quad 7 \times 6 = \square$

$7 \times 5 = \square \quad 7 \times 9 = \square \quad 7 \times 7 = \square \quad 7 \times 4 = \square$

● ¿Cuántos días hay en 5 semanas?

$\square \circ \square = \square$

¿Cuántos lápices hay en 6 botes iguales si en un bote hay 7 lápices?

$\square \circ \square = \square$

● Andrés se va de campamento el primer lunes de julio y termina el tercer domingo de julio.

Se va de campamento el día

Termina el campamento el día

Ha estado de campamento  días.

Su madre fue a verle el segundo jueves del mes.

¿Qué día fue?

JULIO						
L	M	X	J	V	S	D
				1	2	3
4	5	6	7	8	9	10
11	12	13	14	15	16	17
18	19	20	21	22	23	24
25	26	27	28	29	30	31

● Calcula.

$8 \times 4 = \square \quad 8 \times 9 = \square \quad 8 \times 8 = \square \quad 8 \times 3 = \square$

$8 \times 5 = \square \quad 8 \times 6 = \square \quad 8 \times 7 = \square \quad 8 \times 0 = \square$

● Teresa ha comprado 7 paquetes de bizcochos. Cada paquete contiene 8 bizcochos. ¿Cuántos bizcochos ha comprado Teresa?

**Datos** ▶  y   ▶  ○

**Solución** ▶

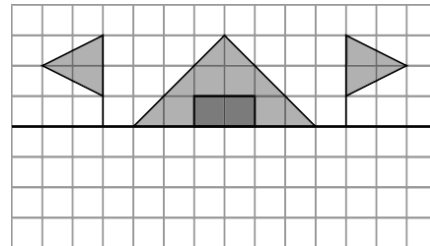
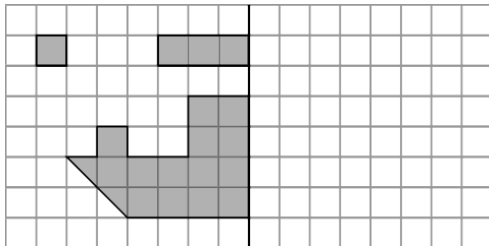
● ¿Cuántos días son 4 semanas y 10 días?

**Datos** ▶   y

**Operaciones** ▶ 1.º  ○  =   
2.º  ○  =

**Solución** ▶

● Completa las figuras para que sean simétricas.



● Realiza las siguientes multiplicaciones.

$$\begin{array}{r} 51 \\ \times 7 \\ \hline \end{array}$$

$$\begin{array}{r} 60 \\ \times 8 \\ \hline \end{array}$$

$$\begin{array}{r} 90 \\ \times 9 \\ \hline \end{array}$$

$$\begin{array}{r} 71 \\ \times 6 \\ \hline \end{array}$$



<https://www.mundoprimeria.com/recursos-educativos/tablas-de-multiplicar>

<https://www.youtube.com/watch?v=8-LAaCJ8pMY>

<https://www.youtube.com/watch?v=07zJbDXTRhM&t=57s>

